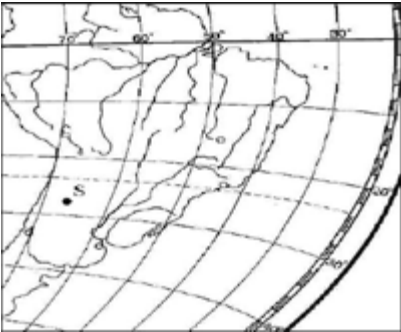


ЗОВНІШНЄ НЕЗАЛЕЖНЕ ОЦІНЮВАННЯ  
ГЕОГРАФІЯ, 2008 (відповіді)

*Дізнайся секрети успішної здачі ЗНО з географії на [geoped.in.ua](http://geoped.in.ua)*

Завдання 1 – 40 мають по чотири варіанти відповіді, серед яких лише один правильний

№	Зміст завдання та відповідь	Джерела
1	Укажіть твердження, яке є визначенням поняття «географія». Відповідь: наука про природу земної поверхні, розміщення населення і господарства.	Скуратович О.Я., Круглик Л.І., Коваленко Р.Р. Загальна географія: підруч. для 6 кл – К.: Зодіак-ЕКО, 2005. – 319с. § 1
2	Укажіть напрямок обертання Землі навколо своєї осі. Відповідь: із заходу на схід	Скуратович О.Я., Круглик Л.І., Коваленко Р.Р. Загальна географія: підруч. для 6 кл – К.: Зодіак-ЕКО, 2005. – 319с. §5 Пестушко В.Ю., Сасихов В.О., Уварова Г.Є. Географія материків і океанів: підруч. для 7 кл. серед.шк. – К.: Абрис, 2003. – 376с. §2
3	 Визначте географічні координати точки S. Відповідь: 27 пд. ш. і 66 зх. д.	Скуратович О.Я., Круглик Л.І., Коваленко Р.Р. Загальна географія: підруч. для 6 кл – К.: Зодіак-ЕКО, 2005. – 319с. §8
4	Що є основним чинником утворення яру? Відповідь: робота текучих вод	Скуратович О.Я., Круглик Л.І., Коваленко Р.Р. Загальна географія: підруч. для 6 кл – К.: Зодіак-ЕКО, 2005. – 319 с. §12 Шищенко П.Г., Муніч Н.В. Фізична географія України: Підруч. для 8 кл. загальноосвіт. навч. закл. – К.: Зодіак – ЕКО, 2005. –

5 Якому поняттю відповідає визначення: «стадія щорічного водного режиму річок, який характеризується найбільшою водністю, високим і тривалим підняттям рівня води, що супроводжується затопленням заплави»?

Відповідь: повінь

6 Які ґрунти є найбільш поширеними в зоні лісостепів помірного поясу.

Відповідь: чорноземи

7 Що сприяє розвитку «парникового ефекту»?  
Відповідь: збільшення кількості вуглекислого газу в атмосфері

8 Укажіть течію, що переміщується над Південноатлантичним, Західноіндійським хребтами та Східнотихоокеанським підняттям.

Відповідь: Західних вітрів

256 с. §39

Скуратович О.Я., Круглик Л.І., Коваленко Р.Р.  
Загальна географія:  
підруч. для 6 кл – К.:  
Зодіак-ЕКО, 2005. – 319с.  
§ 17

Скуратович О.Я., Круглик Л.І., Коваленко Р.Р.  
Загальна географія:  
підруч. для 6 кл – К.:  
Зодіак-ЕКО, 2005. – 319с.  
§ 41

Пестушко В.Ю., Сасихов В.О., Уварова Г.Є.  
Географія материків і океанів:  
підруч. для 7 кл. серед.шк.  
– К.: Абрис, 2003. – 376с. § 58

Атлас для 7 класу  
«Географія материків та океанів». ДНВП  
«Картографія», Атлас для 7 класу «Географія материків та океанів», ППТ

Скуратович О.Я., Круглик Л.І., Коваленко Р.Р.  
Загальна географія:  
підруч. для 6 кл – К.:  
Зодіак-ЕКО, 2005. – 319с.  
§66

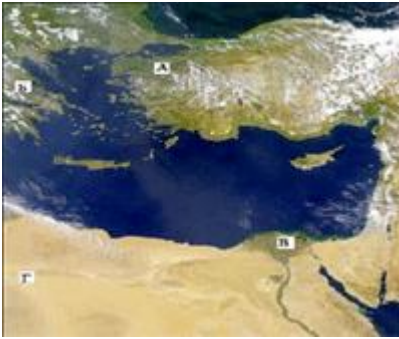
Топузов О.М., Тименко Л.В. Економічна і соціальна географія світу:  
Підруч. для 10 кл.  
загальноосвіт. навч.  
закладів. – К.: Зодіак-ЕКО,  
§ 14

Скуратович О.Я., Круглик Л.І., Коваленко Р.Р.  
Загальна географія:  
підруч. для 6 кл – К.:  
Зодіак-ЕКО, 2005. – 319с.  
§23

Пестушко В.Ю., Сасихов В.О., Уварова Г.Є.  
Географія материків і

- океанів: підруч. для 7 кл. серед.шк. – К.: Абрис, 2003. – 376с. §8  
Атлас для 7 класу «Географія материків та океанів».  
ПТ, ДНВП «Картографія»  
Пестушко В.Ю., Сасихов В.О., Уварова Г.Є.  
Географія материків і океанів: підруч. для 7 кл. серед.шк. – К.: Абрис, 2003. – 376с. §22,30, 49  
Пестушко В.Ю., Сасихов В.О., Уварова Г.Є.  
Географія материків і океанів: підруч. для 7 кл. серед.шк. – К.:Абрис, 2003. – 376с. §57, 59, 60  
Пестушко В.Ю., Сасихов В.О., Уварова Г.Є.  
Географія материків і океанів: підруч. для 7 кл. загально освіт. навч. закладів. – К.: Освіта, Шкільна освіта, 2003. – 256с. §25, 31, 45, 56  
Скуратович О.Я., Круглик Л.І., Коваленко Р.Р.  
Загальна географія: підруч. для 6 кл – К.: Зодіак-ЕКО, 2005. – 319с. § 18  
Пестушко В.Ю., Сасихов В.О., Уварова Г.Є.  
Географія материків і океанів: підруч. для 7 кл. серед.шк. – К.:Абрис, 2003. – 376с. § 33, 39  
Атлас для 10-11 класів. Економічна і соціальна географія світу, ПТ.
- 9 Визначте неправильне твердження про природу материка.  
Відповідь: Антарктида – найбільшим хижаком є білий ведмідь
- 10 Для якої природної країни Євразії характерні мусонні ліси?  
Відповідь: Східна Азія
- 11 Укажіть озеро, що є стічним.  
Відповідь: Ері
- 12 Укажіть правильне твердження про населення материка Австралія.  
Відповідь: найвищий рівень урбанізації серед усіх материків

13



На фрагменті космічного знімка Середземномор'я буквами позначені чотири райони. Оберіть букву (А, Б, В чи Г), якою позначений район найінтенсивнішого зрошувального землеробства.  
Відповідь: В

Пестушко В.Ю., Сасихов В.О., Уварова Г.Є. Географія материків і океанів: підруч. для 7 кл. серед.шк. – К.:Абрис, 2003. – 376с. §25  
Корнєєв В.П., Герасимчук В.М., Пічугін Б.В. Географія материків і океанів: підруч. для 7 кл. загально освіт. навч. закладів. – К.: Освіта, Шкільна освіта, 2003. – 256с  
с.81 – 82, 89 – 91.

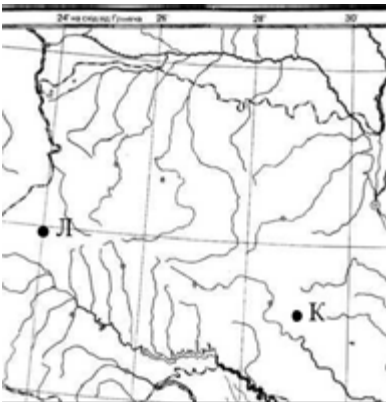
14 На якому материка засновано заповідники: Ноатак, Долина Смерті, Великий Каньйон?  
Відповідь: Північна Америка

Пестушко В.Ю., Сасихов В.О., Уварова Г.Є. Географія материків і океанів: підруч. для 7 кл. серед.шк. – К.: Абрис, 2003. – 376с.  
§ 42 – 47

15 Із якою країною Україна має морську ділянку державного кордону.  
Відповідь: Румунія

«Географія України». Атлас для 8 – 9 класів ДНВП «Картографія» «Географія України». Атлас для 8 – 9 класів Інститут передових технологій.

16



Розгляньте картосхему. Визначте місцевий час у пункті Л, якщо у пункті К місцевий час складає у цей момент 11 годин 04 хвилини.  
Відповідь: 10 год 44 хв

Заставний Ф.Д. Фізична географія України. Підруч. для 8 кл. – К.:, 2003, - 239с.  
Масляк П.О., Шищенко П.Г. Географія України: Підруч. для 8 – 9 кл. серед. шк. К.: Зодіак- ЕКО, 2004. – 432 с.  
Чернов Б. В. Фізична географія України, підр для 8 кл, - К.: Освіта, 2002. – 254 с.  
Гілецький Й.Р. Географія України (Фізична географія з основами загального землезнавства): Підруч. для 8 класу. –

17 На якій платформі розташований Український кристалічний щит?

Відповідь: Східноєвропейська

18 До якої ери відноситься антропогенний геологічний період?  
Відповідь: кайнозойська

Яким умовним знаком на карті позначають родовища корисних копалин: Бориславське, Бугруватівське, Долинське  
Відповідь:

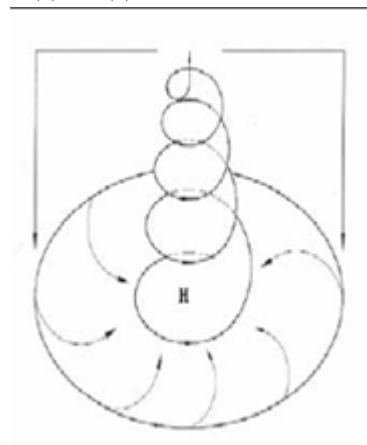


19

20 Знайдіть неправильне твердження щодо використання метеорологічного приладу.

Відповідь: барометром вимірюють випаровуваність

Розгляньте схеми. Визначте, яка із них відображає процес, що формує в Україні взимку мінливу вітряну погоду з відлигами і опадами.  
Відповідь:



21

Львів: ВНТЛ-Класика, 2003. – 150 с. §4

Заставний Ф.Д. Фізична географія України. Підруч. для 8 кл. – К.: 2003, - 239с §15

Гілецький Й.Р. Географія України (Фізична географія з основами загального землезнавства): Підруч. для 8 класу. – Львів: ВНТЛ-Класика, 2003. – 150 с. §11

Скуратович О.Я., Круглик Л.І., Коваленко Р.Р. Загальна географія: підруч. для 6 кл – К.: Зодіак-ЕКО, 2005. – 319с. §13

Чернов Б. В. Фізична географія України, підр. для 8 кл, - К.: Освіта, 2002. – 254 с §15

Скуратович О.Я., Круглик Л.І., Коваленко Р.Р. Загальна географія: підруч. для 6 кл – К.: Зодіак-ЕКО, 2005. – 319с.

Пестушко В.Ю., Сасихов В.О., Уварова Г.Є. Географія материків і океанів: підруч. для 7 кл. серед.шк. – К.: Абрис, 2003. – 376с §6

Масляк П.О., Шищенко П.Г. Географія України: підруч. Для 8 – 9 кл. серед. шк. К.: Зодіак-ЕКО, 2004. – 432с.

«Клімат і кліматичні ресурси»

Кобернік С.Г., Скуратович О.Я. Географія материків і океанів: підруч. для 7 кл. загальноосвіт. навч. закладів. – К.: Навчальна книга, 2005 – 319с. §7

22 До басейну якої річки відносяться притоки: Тетерів, Рось, Псел, Інгулець?  
Відповідь: Дніпро

23 Укажіть форму організації виробництва, що має визначення: «поєднання на одному підприємстві всіх стадій переробки певної сировини, що забезпечує мало- або безвідходність виробництва».  
Відповідь: комбінування

24 Визначте правильний варіант ланцюга «галузь ? підприємство ? основний чинник розміщення підприємства» для столиці України.  
Відповідь: машинобудування ? авіазавод КНТК «Антонов» ? кваліфіковані кадри

25 Укажіть порт на Азовському морі.  
Відповідь: Генічеськ

Заставний Ф.Д. Фізична географія України: підруч. для 8 кл. – К.:, 2003, - 239с., §24

Чернов Б.В. Фізична географія України, підруч. Для 8 кл, - к.: Освіта, 2002. – 254с., §23

Дітчук І. Л., Заставецька О. В., Ткач Д.В. Географія України: навч. посібник. – Тернопіль: Навчальна книга – Богдан, 2003, 2006. – 168 с.

Тема 3 «Промисловість» с.53

Масляк П.О. Економічна і соціальна географія України: підруч. для 9 кл. загальноосвіт. навч. зал. – Педагогічна преса, 2005. – 288с.

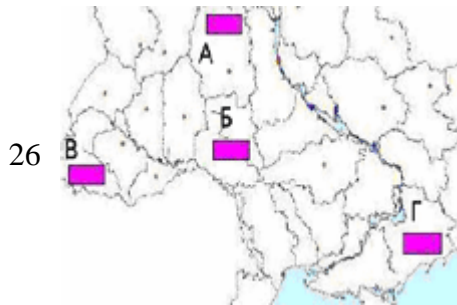
с. 234, 239, 151, 123, Заставний Ф.Д.

Економічна і соціальна географія України: Підруч. для 9 кл. – К.: Форум, 2003. – 239с. с.90,91

Заставний Ф.Д. Економічна і соціальна географія України: Підруч. для 9 кл. – К.: Форум, 2003. – 239с. §29.

Сиротенко А.Й. Економічна і соціальна географія України: Підруч. для 9 кл. загальноосвіт. навч. закл. – К.: Освіта, 2001. – 222 с. §53

Атлас «Географія України» для 8 – 9 класів Інститут передових технологій, 2003



Визначте, який із позначених буквами на картосхемі регіонів України за агрокліматичними умови найбільш придатний для вирощування соняшника.  
Відповідь: Г

Масляк П.О. Економічна і соціальна географія України: підруч.для 9 кл. загально освіт. навч. зал. – Педагогічна преса , 2005. – 288с §42

26 Укажіть варіант, де обидва виробництва є спеціалізацією Північно-Східного, Донецького та Придніпровського районів.  
Відповідь: важке машинобудування, металургія

Заставний Ф.Д. Економічна і соціальна географія України: Підруч. для 9 кл. – К.: Форум, 2003. – 239с. §34, 35, 36

27 Визначте, які транспортні шляхи було прокладено між Львовом і Перемишлем у 1861 р. та між Одесою і Балтою у 1865 р.  
Відповідь: залізничні колії

Масляк П.О. Економічна і соціальна географія України: підруч.для 9 кл. загально освіт. навч. зал. – Педагогічна преса , 2005. – 288с §46

28 Укажіть неправильне твердження щодо зовнішньоекономічних зв'язків України.  
Відповідь: 10% імпорتنих витрат припадає на нафту та природний газ

Заставний Ф.Д. Економічна і соціальна географія України: Підруч. для 9 кл. – К.: Форум, 2003. – 239с. §32

29 У якому рядку вказані міста, що стали курортами завдяки лікувальним властивостям мінеральних джерел.  
Відповідь: Слов'янськ, Моршин, Саки

Заставний Ф.Д. Економічна і соціальна географія України: Підруч. для 9 кл. – К.: Форум, 2003. – 239с. §31  
Атлас «Географія України» для 8 – 9 класів, ДНВП «Картографія», 2003

30 На фотографіях зображено визначні об'єкти чотирьох столиць країн світу. Укажіть об'єкт тієї столиці, яка за кількістю населення не є найбільшим містом у своїй країні.



Відповідь: В

31

Яценко Б. П. Економічна і соціальна географія зарубіжних країн: Підруч. для 10 кл.– К.: Форум, 2004. – с. 248 с. § 56  
Топузов О.М., Тименко Л.В. Економічна і соціальна географія світу: Підруч. для 10 кл. загальноосвіт. навч. закладів. – К.: Зодіак-ЕКО, §29

32 Обчисліть, якою стала кількість населення 100-мільйонної країни через рік, якщо показники руху населення у цьому році

Яценко Б.П. Економічна і соціальна географія

були такими: народжуваність – 35 ‰, смертність – 18 ‰, еміграція – 3 ‰, імміграція – 1 ‰.  
Відповідь: 101,5 млн. осіб

- 33 У якому рядку вказано країну, що не входить до складу ЄС?  
Відповідь: Австрія, Швейцарія, ФРН

- 34 Який регіон Росії спеціалізується на нафтовидобутку та нафтопереробці?  
Відповідь: Західний Сибір

- 35 Укажіть, завдяки якому чиннику хімічна промисловість США, Японії, ФРН знаходиться в авангарді світового господарства.  
Відповідь: високий рівень розвитку науково-дослідної бази

- 36 Визначте неправильне твердження щодо лідерства країни в Латинській Америці.  
Відповідь: Еквадор – за імпортом бананів

- 37 Країна, природні умови якої дозволяють вирощувати в промислових масштабах цукровий буряк і цукрову тростину.  
Відповідь: США.

- 38 У якому рядку вказані курорти Африки.  
Відповідь: Хургада, Шарм-ель-Шейх, Сейшельські острови.

зарубіжних країн: Підруч. для 10 кл. – К.: Форум, 2004. – с. 248 с. § 8  
Топузов О.М., Тименко Л.В. Економічна і соціальна географія світу: Підруч. для 10 кл. загальноосвіт. навч. закладів. – К.: Зодіак-ЕКО, §5

Яценко Б.П. Економічна і соціальна географія зарубіжних країн: Підруч. для 10 кл. – К.: Форум, 2004. – с. 248 с. §30

Яценко Б.П. Економічна і соціальна географія зарубіжних країн: Підруч. для 10 кл. К.: Форум, 2004. – с. 248 с. § 41

Яценко Б.П. Економічна і соціальна географія зарубіжних країн: Підруч. для 10 кл.– К.: Форум, 2004. – с. 248 с. . §18, 31,48, 55

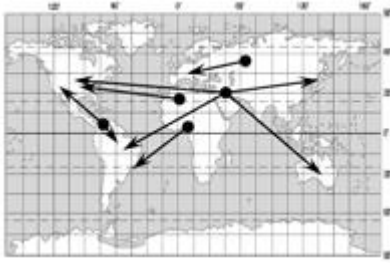
Яценко Б.П. Економічна і соціальна географія зарубіжних країн: Підруч. для 10 кл. – К.: Форум, 2004. – с. 248 с. §59

Яценко Б.П. Економічна і соціальна географія зарубіжних країн: Підруч. для 10 кл. . – К.: Форум, 2004. – с. 248 с. §55

Яценко Б.П. Економічна і соціальна географія зарубіжних країн: Підруч. для 10 кл. – К.: Форум, 2004. – с. 248 §15  
Економічна і соціальна географія. Атлас для 10-11 класів Інститут передових технологій .



39



На картосхемі зображені головні напрямки міжнародних вантажопотоків  
Відповідь: нафти

Яценко Б.П. Економічна і соціальна географія зарубіжних країн: Підруч. для 10 кл. – К.: Форум, 2004. – с. 248 с. §21, Економічна і соціальна географія світу Атлас для 10-11 класів  
Яценко Б.П. Економічна і соціальна географія зарубіжних країн: Підруч. для 10 кл. – К.: Форум, 2004. – с. 248 с. § 50

40 Укажіть державу, на території якої знаходяться визнані ЮНЕСКО об'єкти культурно-історичної спадщини: храм Сонця в Конараку, мавзолей Тадж-Махал.  
Відповідь: Індія.

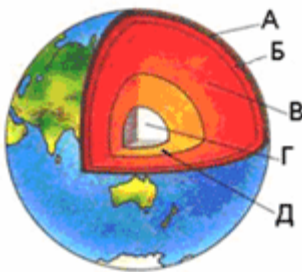
У завданнях 41 – 50 до кожного з чотирьох рядків інформації позначених цифрами, необхідно вибрати один правильний варіант, що позначений буквою.

№

Зміст завдання та відповідь

Джерела

41

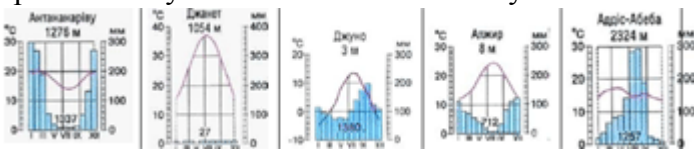


Установіть відповідність між шарами внутрішньої будови Землі та буквами, якими вони позначені на малюнку.  
Відповідь:  
астеносфера – Б  
земна кора – А  
внутрішнє ядро – Г  
мантія – В

Скуратович О.Я., Круглик Л.І., Коваленко Р.Р. Загальна географія: підруч. для 6 кл – К.: Зодіак-ЕКО, 2005. – 319с. §10

Установіть відповідність між типами клімату та кліматограмами.  
Відповідь:

42 субтропічний середземноморський Північної півкулі – Г  
морський помірний Північної півкулі – В  
субекваторіальний Південної півкулі – А  
тропічний пустельний Північної півкулі – Б



Пестушко В.Ю., Сасихов В.О., Уварова Г.Є. Географія материків і океанів: підруч. для 7 кл. серед.шк. – К.: Абрис, 2003. – 376с. §6, 7  
Атлас для 7 класу «Географія материків та океанів».  
Інститут передових технологій

Установіть відповідність між назвами творів, де подано географічний опис України та часом їхнього написання.  
Відповідь:

43 «Географія» в 17-и томах грецького мислителя Страбона – I ст. до н. е.  
«Труди етнографіческо-статистической експедиції вь Западно-Русській край» етнографа Павла Чубинського – 1872 – 1879 рр.  
«Українська географічна енциклопедія» у 3-х томах (за редакцією члена-кореспондента НАН України, географа Олександра Маринича) – 1989 – 1993 рр.

Кобернік С.Г., Скуратович О.Я. Географія материків і океанів: Підруч. для 7 кл. загальноосвіт. навч. закладів. – К.: Навчальна книга, 2005. – 319 с.  
Гілецький Й.Р. Географія України (Фізична географія з основами загального

«Географія України і сумежних земель» картографа Володимира Кубійовича – 1932 р.

землезнавства): Підруч. для 8 класу. – Львів: ВНТЛ-Класика, 2003. – 150 с. §4

Корнев В. П., Герасимчук В. М., Пічугін Б. В. Географія материків і океанів: підруч. для 7 кл. загально освіт. навч. закладів. – К.: Освіта, Шкільна освіта, 2003. – 256с.

с.5 – 6

Чернов Б.В. Фізична географія України, підруч. Для 8 кл, - к.:Освіта,2002. – 254с. §12


Сиротенко А.Й. Економічна і соціальна географія України: Підруч. для 9 кл. загальноосв. навч. закл. – К.: Освіта, 2001. – 222 с. §14

Атлас «Географія України» для 8 – 9 класів ДНВП «Картографія»

Знайдіть відповідність між рівнинами на території України та формами земної поверхні, що характерні для цих рівнин.

Відповідь:

- 44 Поліська низовина – моренні горби  
Придніпровська низовина – соляні куполи  
Донецька височина – терикони  
Причорноморська низовина – поди, блюдця



Розгляньте космічний знімок. Установіть відповідність між інформацією про певні акваторії (позначені цифрами), та акваторіями (позначена на космічному знімку буквами).

Відповідь:

- 45 біля берегів України улітку тут найтепліша вода, проте взимку море в цьому районі може замерзати – Б  
солоність води в цьому районі вища 18‰ – Г  
шельфова зона тут вузька, глибини моря швидко збільшуються неподалік від від берега – В  
червону водорість (філофору) збирають тут у великій кількості – А

Заставний Ф.Д. Фізична географія України. Підруч. для 8 кл. – К.:, 2003, - 239с. § 28

Чернов Б.В. Фізична географія України, підруч. Для 8 кл, - к.:Освіта,2002. – 254с. §48, 49

Відповідь:



Установіть відповідність між національними меншинами України та районами їхнього компактного проживання, що позначені на картосхемі буквами.

Відповідь:  
болгари – Д

Сиротенко А.Й.

Економічна і соціальна географія України: Підруч. для 9 кл. загальноосв. навч. закл. – К.: Освіта, 2001. – 222 с. §6

Масляк П.О. Економічна і

кримські татари – Г  
угорці – Б  
поляки – А

Установіть відповідність між назвами атомних станцій та їхніми містами – супутниками

- 47 Відповідь:  
Хмельницька – Нетішин  
Рівненська – Кузнецовськ  
Запорізька – Енергодар  
Південноукраїнська – Южноукраїнськ

Установіть відповідність між областями України та туристськими об'єктами розташованими в них.

- Відповідь:  
48 Тернопільська – печера «Кришталева»  
Івано-Франківська – г.Говерла  
Черкаська – Дендропарк «Софіївка»  
Волинська – Луцький замок



- 49 Розгляньте картосхему. Установіть відповідність між інформацією, що характеризує ту чи іншу державу, та державами, що позначені на карті буквами.  
Відповідь:  
населення країни утворює окрему групу індоєвропейської мовної сім'ї; панівною є православна віра; столиця – одне з найдавніших міст світу – Д  
у країні переважає гірський рельєф; її територією протікає друга за довжиною річка Європи; 49 % населення зайнято в промисловості – Г  
країна - член ЄС, але не входить до НАТО; багата на лісові ресурси; виробляє автомобілі «Вольво»; населення мешкає переважно на півдні країни – А  
країна з населенням 38,6 млн. осіб; експортує вугілля, мідь, продукцію машинобудування й АПК; має значний товарообіг з Україною (>1 млрд. доларів США) – Б

Установіть відповідність між назвами міжнародних організацій та наведеними про них фактами.

- 50 Відповідь:  
ООН – серед членів-засновників організації була Україна (на той час УРСР);

соціальна географія  
України: підруч.для 9 кл.  
загально освіт. навч. зал. –  
Педагогічна преса , 2005.  
– 288с §11

Заставний Ф.Д.  
Економічна і соціальна  
географія України:  
Підруч. для 9 кл. – К.:  
Форум, 2003. – 239с. §15

Масляк П.О. Економічна і  
соціальна географія  
України: підруч.для 9 кл.  
загально освіт. навч. зал. –  
Педагогічна преса , 2005.  
– 288с §46  
Сиротенко А.Й.  
Економічна і соціальна  
географія України:  
Підруч. для 9 кл.  
загальноосв. навч. закл. –  
К.: Освіта, 2001. – 222 с.  
§53

Яценко Б.П. Економічна і  
соціальна географія  
зарубіжних країн: Підруч.  
для 10 кл. . – Прок-Бізнес,  
2004  
§6, 10, 20, 28, 30  
Атлас для 10 – 11 класів.  
«Економічна і соціальна  
географія світу»ДНВП  
«Картографія» 2003-  
2007рр.

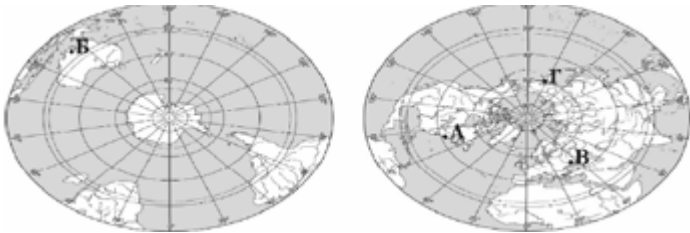
Яценко Б.П. Економічна і  
соціальна географія  
зарубіжних країн: Підруч.  
для 10 кл. – Прок-Бізнес,  
2004 §6, 20

НАФТА – об’єднує США, Канаду, Мексику для реалізації угоди про зону вільної торгівлі;

СОТ – економічна організація (понад 150 країн-членів), що регулює правила міжнародної торгівлі.

ОПЕК – організація країн, що є експортерами нафти.

У завданнях 51 – 60 необхідно розташувати запропоновані факти у правильній послідовності.

№	Зміст завдання та відповідь	Джерела
51	<p>Розташуйте географічні об’єкти в тій послідовності, в якій вони були відкриті європейцями.</p> <p>Відповідь: мис Доброї Надії – Магелланова протока – Нова Зеландія – Антарктичний півострів</p>	<p>Скуратович О.Я., Круглик Л.І., Коваленко Р.Р.</p> <p>Загальна географія: підруч. для 6 кл – К.: Зодіак-ЕКО, 2005. – 319с. § 2</p> <p>Пестушко В.Ю., Сасихов В.О., Уварова Г.Є.</p> <p>Географія материків і океанів: підруч. для 7 кл. серед.шк. – К.: Абрис, 2003. – 376с. § 21, 30, 40</p>
52	 <p>Розташуйте позначені на обох півкулях буквами географічні об’єкти в порядку настання в цих точках нової доби</p> <p>Відповідь: Г – Б – В – А</p>	<p>Скуратович О.Я., Круглик Л.І., Коваленко Р.Р.</p> <p>Загальна географія: підруч. для 6 кл – К.: Зодіак-ЕКО, 2005. – 319с.</p>
53	<p>Розташуйте послідовно назви водних мас Індійського океану (від острова Ява до берегів Антарктиди).</p> <p>Відповідь: екваторіальні – тропічні – помірні – полярні</p>	<p>Пестушко В.Ю., Сасихов В.О., Уварова Г.Є.</p> <p>Географія материків і океанів: підруч. для 7 кл. серед.шк. – К.: Абрис, 2003. – 376с. § 8</p> <p>Географія материків і океанів. Атлас для 7 класу ДНВП «Картографія»</p> <p>Пестушко В.Ю., Сасихов В.О., Уварова Г.Є.</p>
54	<p>Розташуйте послідовно (з півночі на південь) природні зони Східноєвропейської рівнини.</p> <p>Відповідь: тайга – мішані ліси – лісостеп – степ</p>	<p>Географія материків і океанів: підруч. для 7 кл. серед.шк. – К.: Абрис, 2003. – 376с. § 57, 58</p>
55	<p>Розташуйте послідовно одиниці регіональної класифікації ландшафтів України починаючи від найбільшої за рангом.</p>	<p>Чернов Б.В. Фізична географія України, підруч.</p>

Відповідь: країна – зона – край – область

для 8 кл., - к.:Освіта,2002.  
– 254с §31

Заставний Ф.Д. Фізична географія України. Підруч. для 8 кл. – К.:, 2003, - 239с. §37

Шищенко П.Г., Муніч Н.В. Фізична географія України: Підруч. для 8 кл. загальноосвіт. навч. закл. – К.: Зодіак – ЕКО, 2005. – 256 с. §41

Атлас

Заставний Ф.Д. Фізична географія

України. Підруч. для 8 кл. – К.:, 2003, - 239с. §37

Шищенко П.Г., Муніч Н.В. Фізична географія України: Підруч. для 8 кл. загальноосвіт. навч. закл. – К.: Зодіак – ЕКО, 2005. – 256 с. §48

Заставний Ф.Д.

Економічна і соціальна географія України:

Підруч. для 9 кл. – К.: Форум, 2003. – 239с §28-30.

Масляк П.О. Економічна і соціальна географія України: підруч. для 9 кл. загально освіт. навч. зал. – Педагогічна преса , 2005. – 288с §48

Яценко Б.П. Економічна і соціальна географія зарубіжних країн: Підруч. для 10 кл. – Прок-Бізнес, 2004 §5, 65

Атлас «Економічна і соціальна географія світу» ДНВП «Картографія» 2003-2007рр.

- Установіть послідовність перетину природних областей Українських Карпат, якщо рухатися у напрямку з північного сходу на південний захід
- 56 Відповідь: Зовнішньокарпатська – Вододільно-Верховинська – Полонинсько-Чорногірська – Вулканічно-Карпатська.

- Розташуйте послідовно види транспорту України за показником вантажообігу
- 57 ( починаючи від найменшого).  
Відповідь: річковий – автомобільний – залізничний – трубопровідний

- Розташуйте країни за показником ВВП на душу населення, починаючи від найменшого.
- 58 Відповідь: Ефіопія – Китай – Польща – Канада.

- 59 Обчисліть середню густоту (щільність) населення країн

Яценко Б.П. Економічна і соціальна географія зарубіжних країн: Підруч.

зазначених у таблиці. Розташуйте їх послідовно від найбільшого до найменшого показника.

	Країна	Кількість населення (млн. осіб)	Площа (тис. км <sup>2</sup> )
<b>A</b>	Індія	1092	3288
<b>Б</b>	Бразилія	186	8512
<b>B</b>	Нідерланди	16,5	41,9
<b>Г</b>	Єгипет	79	1001

Відповідь:  
Нідерланди — Індія  
— Єгипет — Бразилія.

для 10 кл. . – Прок-Бізнес, 2004 §8 Атлас «Економічна і соціальна географія світу» ДНВП «Картографія» 2003-2007рр.

Пестушко В.Ю., Сасихов В.О., Уварова Г.Є. Географія материків і океанів: підруч. для 7 кл. серед. шк. – К.: Абрис, 2003. – 376с. §32,34  
Шищенко П.Г., Муніч Н.В. Фізична географія України: Підруч. для 8 кл. загальноосвіт. навч. закл. – К.: Зодіак – ЕКО, 2005. – 256 с. §57  
Масляк П.О. Економічна і соціальна географія України: підруч. для 9 кл. загальноосвіт. навч. закл. – Педагогічна преса, 2005. – 288с §24,  
Яценко Б.П. Економічна і соціальна географія зарубіжних країн: Підруч. для 10 кл. . – Прок-Бізнес, 2004.

Установіть у хронологічній послідовності події (починаючи від найдавнішої), наслідком яких є антропогенні зміни в природі. Відповідь: початок переселення із Америки Європу рослин-ендемів, що стали поширеними сільськогосподарськими культурами – початок переселення тварин із Європи в Австралію, що стало справжнім лихом для місцевої фауни – початок будівництва каскаду водосховищ на Дніпрі, що призвело до втрати значних площ родючої землі – прийняття законів України «Про охорону навколишнього середовища» та «Про зону надзвичайної екологічної ситуації», спрямованих на поліпшення екологічної ситуації в державі

60