

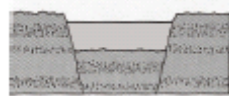
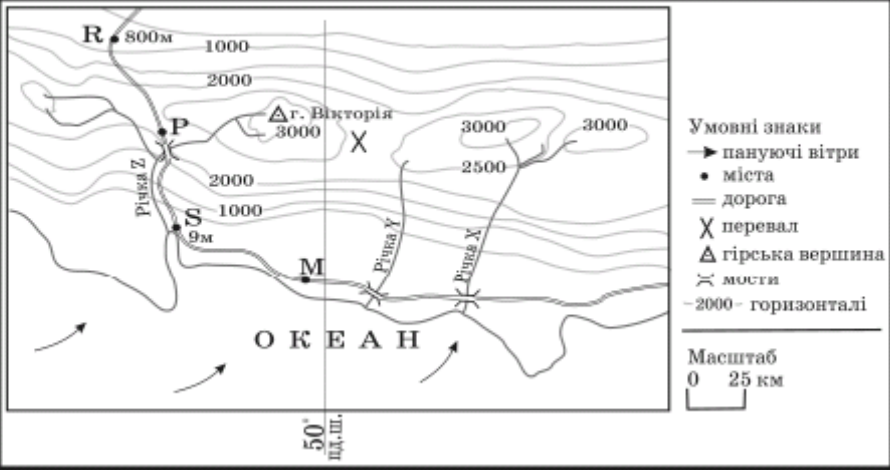
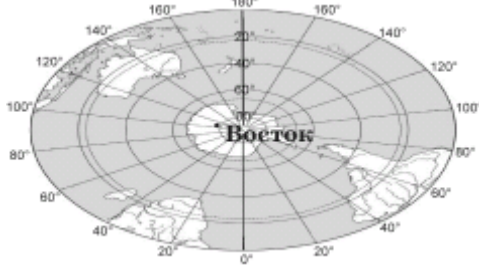
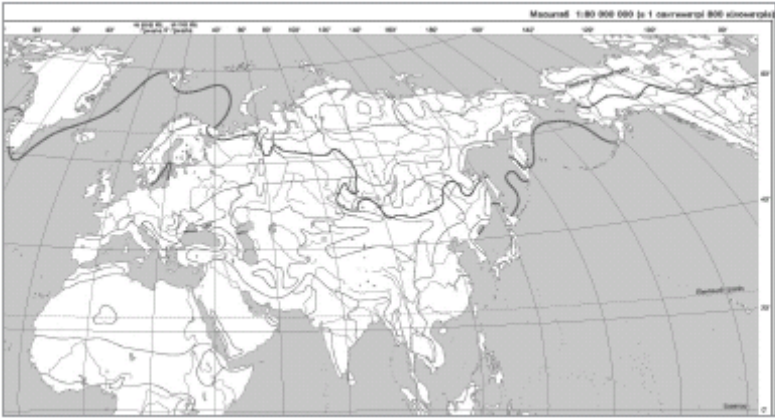

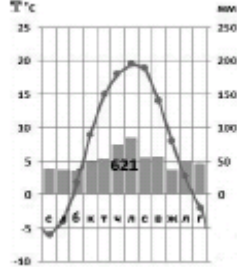



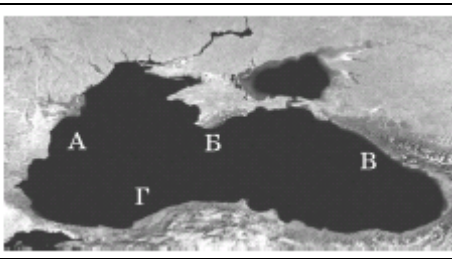
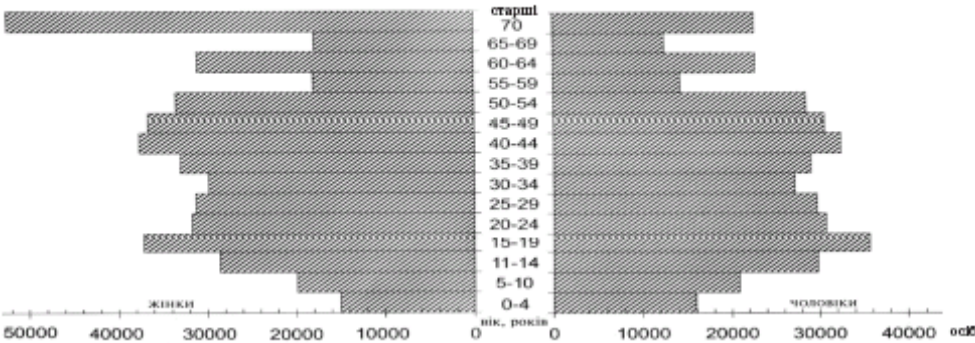
Зовнішнє незалежне оцінювання з географії 2009


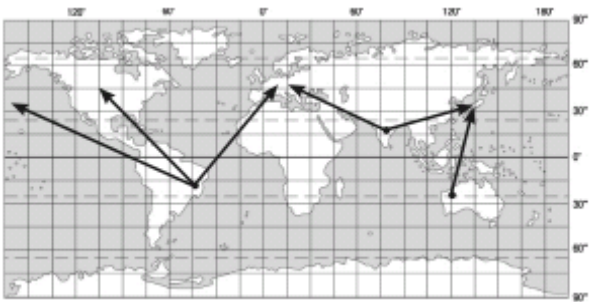
Зміст завдання*	Правильна відповідь *
1. Яка подія відбулася на початку епохи Великих географічних відкриттів?	європейці дізналися про нову частину світу
2. Причиною припливів і відпливів у Світовому океані є	притягання Місяця та Сонця.
3. У якій із точок, що позначені на карті, Сонце знаходиться в zenіті ополудні 23 вересня? 	Б
4. Розгляньте план місцевості. Яке число найточніше відображає відстань у метрах, яку пройшов пішохід стежкою від річки Совки, що протікає попід лісом, через найдовшу вулицю села до ялини над обривом річки Вершини? 	1300


<p>5. Визначте схему, на якій відображено походження озерних улоговин Танганьки та Байкалу?</p>	
<p>6. Розгляньте карту уявної земної поверхні. Доберіть правильне твердження про природу та господарство цієї місцевості.</p> 	<p>Середньорічна кількість опадів в місті Р більша, ніж у місті R.</p>
<p>7. Укажіть географічні об'єкти, у межах яких рослинний і тваринний світ найбагатший і найрізноманітніший.</p>	<p>Амазонія, Калімантан</p>
<p>8. Визначте правильне твердження про природу океанів.</p>	<p>Водні маси верхнього шару Індійського океану холодніші на півдні, ніж на півночі</p>
<p>9. Яке твердження щодо географічного положення Австралії правильне?</p>	<p>Майже посередині її перетинає Південний тропік</p>
<p>10. Укажіть географічний об'єкт, у межах якого знаходиться найвища вершина Африки.</p>	<p>Східноафриканське плоскогір'я</p>
<p>11. Визначте координати антарктичної станції «Восток», де зафіксовано найнижчу температуру повітря на Землі.</p>	<p>79° пд. ш. 105° сх. д.</p>

	
<p>12. Визначте природну країну Південної Америки, що має такі ознаки: <i>«субтропічний клімат з рівномірним зволоженням; на незораних червонувато-чорних ґрунтах домінують злаки; водяться гуанако, мустанги, олені, нанду; переважає вирощування кукурудзи, пшениці та скотарство».</i></p>	Пампа
<p>13. Укажіть правильне твердження про пам'ятку природи Північної Америки – печеру Флінт-Мамонтова.</p>	Найдовша печера на материку.
<p>14. За допомогою карти, де зображено межі поширення багаторічної мерзлоти, визначте країну Євразії, населення якої має можливість в околицях столиці використовувати влітку природні холодильники для збереження продуктів харчування.</p> 	Монголія
<p>15. За даними таблиці визначте столицю держави, на залізничному вокзалі якої годинник вказує такий же час, що й на київському.</p>	Бухарест

Столиця	Широта	Довгота		
Київ	51° пн. ш.	31° сх. д.		
Братислава	48° пн. ш.	17° сх. д.		
Будапешт	47° пн. ш.	19° сх. д.		
Бухарест	44° пн. ш.	26° сх. д.		
Москва	56° пн. ш.	37° сх. д.		
16. Складовою якої тектонічної структури є пороги в руслі річки, що мала назви: Борисфен, Данапріс, Славутич?			Український щит	
17. Результат якого процесу зображено на схемі?			зсув	
				
18. На якій кліматодіаграмі відображено кліматичні умови Києва?				
19. Визначте похил р. Дунай за даними, указаними на схемі.			0,24 м/км	
				

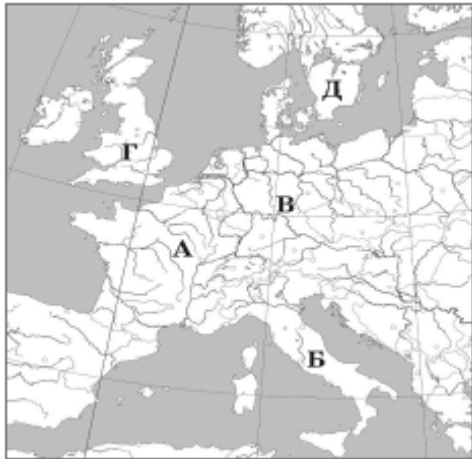
<p>20. Якою буквою на космічному знімку позначено частину акваторії Чорного моря, де проходить Кавказька течія?</p>		<p>В</p>					
<p>21. Визначте регіон України, для якого типовими є подані в таблиці ґрунти, рослини і тварини.</p> <table border="1" data-bbox="203 550 1133 651"> <thead> <tr> <th>Ґрунти</th> <th>Рослини</th> <th>Тварини</th> </tr> </thead> <tbody> <tr> <td>бурі, сіро-бурі, дерново-буроземні</td> <td>бук, ялиця, ялина, ялівець, сосна сланка</td> <td>олень благородний, ведмідь бурий, глухар</td> </tr> </tbody> </table>	Ґрунти	Рослини	Тварини	бурі, сіро-бурі, дерново-буроземні	бук, ялиця, ялина, ялівець, сосна сланка	олень благородний, ведмідь бурий, глухар	<p>Карпати</p>
Ґрунти	Рослини	Тварини					
бурі, сіро-бурі, дерново-буроземні	бук, ялиця, ялина, ялівець, сосна сланка	олень благородний, ведмідь бурий, глухар					
<p>22. Яка причина збільшення солоності води в Азовському морі?</p>	<p>Інтенсивне зрошення в долинах Дону та Кубані.</p>						
<p>23. Проаналізувавши статеву-вікову піраміду, визначте правильне твердження про міське населення однієї з областей України.</p> 	<p>Найбільша різниця кількості жінок і чоловіків у віці понад 70 років</p>						
<p>24. Укажіть елементи територіальної структури господарства.</p>	<p>промисловий центр, сільськогосподарська зона, економічний район</p>						
<p>25. Визначте рядок із правильним поєднанням даних про підприємство машинобудівної галузі України в ланцюзі: місто – назва підприємства – продукція – основний фактор розміщення.</p>	<p>Краматорськ – «Новокраматорський машзавод» – ковальсько-пресове устаткування – металургійна база</p>						
<p>26. Який вид продукції основної хімії виробляється в містах Черкаси, Рівне, Одеса, Северодонецьк, Дніпродзержинськ?</p>	<p>азотні добрива</p>						
<p>27. Площі посівів якої сільськогосподарської культури в Україні відображено на картограмі?</p>	<p>цукровий буряк</p>						





 <p>Посівні площі сільськогосподарської культури</p> <ul style="list-style-type: none"> □ невизначені ■ значні ■ найбільші 	
<p>28. Як називаються антропогенні та природні об'єкти, а також явища природи, які використовуються для відновлення та розвитку фізичних і духовних сил людини?</p>	<p>рекреаційні ресурси</p>
<p>29. Оберіть правильне твердження щодо транспорту України.</p>	<p>Найвищу собівартість перевезень має авіаційний транспорт.</p>
<p>30. Визначте економічний район, що спеціалізується на виробництві літаків, вантажних автомобілів, нафтопродуктів, поліграфічної продукції.</p>	<p>Північно-Східний</p>
<p>31. Укажіть міжнародну організацію, членом якої є Україна.</p>	<p>ООН</p>
<p>32. Укажіть правильне твердження про населення країн «великої сімки».</p>	<p>Низький і від'ємний показник природного приросту.</p>
<p>33. Визначте корисну копалину, міжнародні вантажопотоки якої відображено на картосхемі.</p> 	<p>залізна руда</p>
<p>34. Частку збору певної сільськогосподарської культури у структурі світового виробництва зернових відображено на діаграмі суцільним сірим кольором. Яка це культура?</p>	<p>кукурудза</p>

	
<p>35. У якому регіоні США знаходяться 2/3 запасів деревини країни; найбільша ГЕС Гранд-Кулі на р. Колумбія; у головному місті Сіетлі – аерокосмічна компанія «Боїнг» та електронна компанія «Майкрософт»?</p>	<p>Тихоокеанський Північний Захід</p>
<p>36. Яке місто Росії є центром морського суднобудування?</p>	<p>Санкт-Петербург</p>
<p>37. Що призвело до того, що за економічним потенціалом і ВВП Китай знаходиться в першій десятці країн світу?</p>	<p>Проведення системних економічних реформ і політики «відкритих дверей»</p>
<p>38. Яка держава фінансово-технологічною підтримкою сприяла розвитку машинобудування країн нової індустріалізації – «азіатських тигрів»?</p>	<p>Японія</p>
<p>39. Укажіть правильне твердження щодо лідерства країни в Латинській Америці.</p>	<p>Еквадор експортує найбільше бананів.</p>
<p>40. Який європейський курорт має вибрати сім'я, що планує відпочити на березі океану?</p>	<p>Коста-Верде (Іспанія)</p>
<p>41. Установіть відповідність між назвами галузей географічних наук і предметом їхнього вивчення.</p>	<p>соціальна географія – наука про просторові форми та процеси організації життя людей і виробництва – умов їхньої праці, відпочинку, побуту, розвитку особистості. фізична географія – наука про географічну оболонку Землі, її склад, структуру, особливості формування, розвитку, просторової диференціації геоморфологія – наука про рельєф земної поверхні, що утворився в результаті постійної взаємодії внутрішніх і зовнішніх процесів гідрологія – наука, що вивчає природні води, явища і процеси, що в них відбуваються</p>
<p>42. Установіть відповідність між назвами форм дна океану та їхніми зображеннями, позначеними на схемі буквами.</p>	<p>рифт – Д шельф – А ложе океану – В</p>

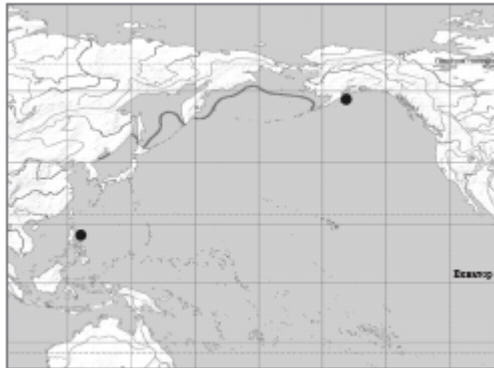
		<p>глибоководний жолоб – Г</p>
<p>43. Установіть відповідність між різновидами сонячної радіації, що на схемі позначені цифрами, та їхніми назвами, що вказані буквами.</p>		<p>1 – розсіяна 2 – відбита 3 – пряма 4 – поглинута</p>
<p>44. Установіть відповідність між річками та формами поверхні, де знаходяться витoki цих річок (див. карту).</p>		<p>Дніпро – Валдайська височина Прип'ять – Поліська низовина Сіверський Донець – Середньоруська височина Дністер – Карпати</p>

<p>45. Установіть відповідність між ландшафтними краями (провінціями) лісостепо- вої зони України та їхніми характеристиками.</p>	<p>Середньоруський – кліматичні умови континентальніші, ніж в інших лісостепових краях Дністровсько- Дніпровський – знаходиться в межах Подільської та Придніпров- ської височин, у минулому значні площі були зай- няті широколистяними лісами Західноукраїнський – найбільш підвищена та найбільш зволожена час- тина лісостепової зони Лівобережно- Дніпровський – через неглибоке залягання засолених ґрунтових вод поширені солонцюваті ґрунти з солончаковою рослинністю, трапляються соляні куполи</p>
<p>46. Установіть відповідність між назвою виду міграції та переміщенням населення в Україні.</p>	<p>внутрішня міграція – переїзд на проживання у Вінницю з сільської місцевості Хмельницької області еміграція – виїзд з Івано-Франківської області на постійне проживання в Іспанію імміграція – в'їзд жителя Молдови в Україну на постійне проживання реміграція – повернення в Україну киян, які виїжджали до Польщі на постійне проживання</p>
<p>47. Установіть відповідність між формами організації виробництва на підприємстві та твердженнями про ці форми.</p>	<p>концентрація – зосередження виробництва продукції на великому підприємстві кооперування – налагодження підприємством зв'язків з іншими підприємствами для випуску готової продукції спеціалізація – виробництво на підприємстві однорідної продукції комбінування – поєднання кількох взаємозв'язаних за технологіч- ним процесом виробництв на одному підприємстві</p>

<p>48. Установіть відповідність між назвами атомних електростанцій та економічними районами, у яких вони знаходяться.</p>	<p>Запорізька – Придніпровський Рівненська – Північно-Західний Хмельницька – Подільський Південноукраїнська – Причорноморський</p>
<p>49. Установіть відповідність між країнами та структурою релігійних вірувань їх населення.</p>	<p>Росія – православні – 40%, мусульмани – 10%, протестанти – 1%, іудаїсти – 0,4%, католики – 0,3% атеїсти та інші – 48,3% Китай – атеїсти – 64%, національна релігія (поєднання конфуціанства, даосизму та буддизму) – 20%, буддисти – 9%, мусульмани – 1%, інші – 6% Єгипет – мусульмани-суніти – 94%, християни-копти та інші – 6% США – протестанти – 56%, католики – 28%, іудаїсти – 2%, інші – 4%</p>
<p>50. Установіть відповідність між інформацією, що характеризує ту чи іншу державу, та державою, позначеною на карті буквою.</p> 	<p>за збором винограду утримує перше місце у світі, один із кварталів столиці є територією теократичної монархії – Б</p> <p>за промисловим потенціалом поступається тільки США та Японії, у результаті об'єднання країни в кінці ХХ ст. збільшилася її територія, поновлено місцезнаходження столиці – В</p> <p>має значні запаси нафти на шельфі, конституційна монархія, лідер серед країн Співдружності Націй – Г</p> <p>за населенням – друга, за площею – перша країна в Західній Європі, у одному з міст на сході знаходиться Європейський парламент – А</p>

<p>51. Розташуйте імена мандрівників за часом їхніх відкриттів, починаючи з найдавнішого.</p>	<p>1 – Марко Поло 2 – Христофор Колумб 3 – Вітус Берінг 4 – Жак Ів Кусто</p>
<p>52. Установіть послідовність розташування заповідників і національних парків світу (з півночі на південь).</p>	<p>1 – Біловезька пуща 2 – Чорноморський 3 – Серенгеті 4 – Ігуасу</p>
<p>53. Укажіть послідовно типових представників тваринного світу географічних поясів Євразії, починаючи від найближчого до екватора.</p>	<p>1 –  2 –  3 –  4 – </p>

54. Кокосовий горіх упав в море з берега о. Лусон (Філіппінський архіпелаг), а хвиля з часом прибила його на о. Кадьяк (поблизу Північної Америки). Укажіть послідовно течії, які несли горіх.



- 1 – Північна Пасатна
- 2 – Куросіо
- 3 – Тихоокеанська
- 4 – Аляскінська


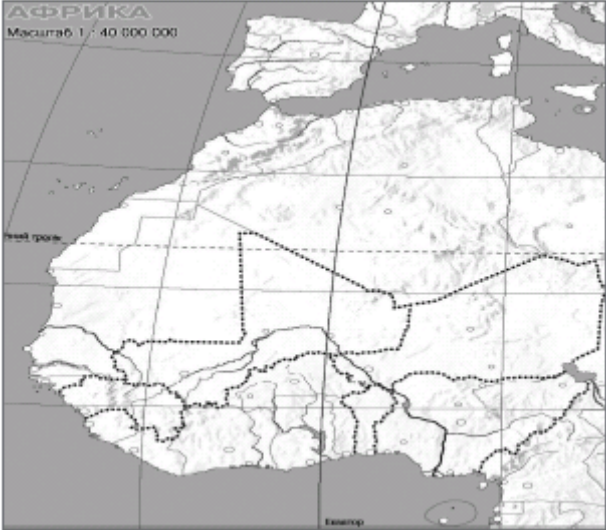
55. Розташуйте послідовно назви родовищ корисних копалин України, зображених на карті умовними знаками в порядку віддалення від Донецького вугільного басейну.



- 1 – Великотокмацьке
- 2 – Білозерське
- 3 – Сиваське
- 4 – Голцінське

56. У якій послідовності відвідає турист обласні центри, якщо він прямує зі Львова в Полтаву за вказаним на картосхемі маршрутом?

- 1 – Тернопіль
- 2 – Хмельницький
- 3 – Вінниця
- 4 – Черкаси

	
<p>57. Установіть послідовність стадій металургійного виробничого процесу, починаючи від початкової.</p>	<ol style="list-style-type: none"> 1 – збагачення руди 2 – виплавлення чавуну 3 – виплавлення сталі 4 – виготовлення прокату
<p>58. Припустимо, що біля витoku річка Нігер була забруднена шкідливими речовинами. Укажіть послідовно країни лівобережжя, які зазнали б небезпеки.</p> 	<ol style="list-style-type: none"> 1 – Гвінея 2 – Малі 3 – Нігер 4 – Нігерія
<p>59. Визначте водозабезпеченість населення зазначених у таблиці країн. Розташуйте їх послідовно, починаючи від найменшого обчисленого показника.</p>	<ol style="list-style-type: none"> 1 – Бангладеш 2 – Бразилія 3 – Венесуела 4 – Канада

Країни	Ресурси прісної води, км ³	Кількість населення, млн осіб	
Венесуела	1320	28	
Бангладеш	2360	145	
Канада	2900	33	
Бразилія	6950	190	

<p>60. Установіть у хронологічній послідовності події (починаючи від найдавнішої), наслідком яких є антропогенні зміни в природі.</p>	<p>1 – заснування зоопарку та дендропарку Ф. Фальц-Фейном в Асканії Новій, що стало початком створення заповідника для збереження природи європейського степу</p> <p>2 – широкомасштабна меліорація земель Полісся, що було передбачено п'ятирічними планами союзнаї держави, складовою якої була Україна</p> <p>3 – створення Чорнобильської зони відчуження після аварії на ЧАЕС</p> <p>4 – прийняття Верховною Радою незалежної України Закону про ратифікацію «Європейської ландшафтної конвенції»</p>
---	--